

Pomlky




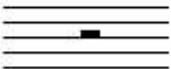




-Minule jsme si vysvětlili, jak se počítají jednotlivé noty (tedy na kolik dob trvají). A že se do taktů vejde určitý počet not. Stejně tak se do každého taktu vejde určitý počet pomlek.

-Noty píšeme pokud chceme zapsat tóny. POMLKY PÍŠEME, KDYŽ CHCEME ZAPSAT TICHŮ.

-Druhy not už známe. Je to nota: celá=4 doby, půlová=2 doby, čtvrt'ová=1 doba a osminová=půl doby.

-Pomlky rozdělujeme stejně jako noty na CELOU, PŮLOVOU, ČTVRŤOVOU A OSMINOVOU.

Jak pomlky vypadají?

Název	Nota	Pomlka	
Nota celá			Pomlka celá trvá 4 doby a visí ze 4. linky.
Nota půlová			Pomlka půlová trvá dvě doby a leží na 3. lince.
Nota čtvrt'ová			Pomlka čtvrt'ová trvá 1 dobu.
Nota osminová			Pomlka osminová trvá půl doby.

D.Ú. (týden 2 . -6.11.)

1) Zapamatuj si, jak vypadají pomlky: celá a půlová

2) Vypracuj pracovní listy (!! dávej pozor, na kterou linku pomlky píšeš!);

-zopakuj si, jak vypadá nota celá a půlová a na kolik dob se počítají

D.Ú. (9. -13.11.)

1) Zapamatuj si, jak vypadají pomlky: čtvrt'ová a osminová

2) Vypracuj pracovní listy (!! opět dávej velký pozor na které linky pomlky píšeš!);

-zopakuj si jak vypadá nota čtvrt'ová a na kolik se počítá

-také si zopakuj jak vypadá nota osminová