

KVARTOVÝ KRUH - DUROVÉ STUPNICE (PRAKTICKY)

C dur 0b
č.4
Z TOHO PLYNE, ŽE
F dur má 1b
č.4
Z TOHO PLYNE, ŽE
B dur má 2b

B dur 2b
č.4
Z TOHO PLYNE, ŽE
Es dur má 3b
č.4
Z TOHO PLYNE, ŽE
As dur má 4b

As dur 4b
č.4
Z TOHO PLYNE, ŽE
Des dur má 5b
č.4
Z TOHO PLYNE, ŽE
Ges dur má 6b

Ges dur 6b
č.4
Z TOHO PLYNE, ŽE
Ces dur má 7b
KONEC :)

- ! ÚKOL PRO TEBE (KVARTOVÝ KRUH = b): jáke předznamenání mají tyto stupnice:
- ① B dur ② Ges dur ③ F dur ④ C dur
- ⑤ Es dur ⑥ Ges dur ⑦ As dur ⑧ Des dur

- ! ÚKOL PRO TEBE (OPAKOVÁNÍ KVINTOVÉHO KRUHU durových a mollových stupnic = #)
- ① a moll ② D dur ③ fis moll ④ E dur
- ⑤ gis moll ⑥ Cis dur ⑦ h moll ⑧ A dur
- ⑨ C dur ⑩ e moll ⑪ H dur ⑫ dis moll

INTERVALY ODRŮZNÝCH TŮNŮ - VZOR

SEKUNDA, TERCIE, KVARTA

SEKUNDA

TERCIE

KVARTA

ÚKOL PRO TEBE (ZAPIS DO NOTOVÉ OSNOVY POŽADOVANE INTERVALY)

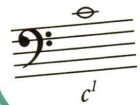
přec k tomu k tomu č.1 + č.8

CO UŽ UMÍM

Klíč houslový




Klíč basový




Tajenka

Jak jinak nazýváme tón B

Urči tento interval 

Jak se nazývá pokyn „hrát v původním tempu“

Jak říkáme 5. stupni (harmonická funkce)

Jak se nazývá tato skupina not 

Napiš italské názvosloví pro pokyn hrát „velmi rychle“

Jak se nazývá nejhlubší oktáva na klavíru

Jak se nazývá přenesení přízvuku na lehkou dobu

Jak se nazývá 1. obrat kvintakordu

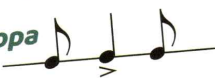
Křížky




Běčka



Synkopa



Základní harmonické funkce



Obraty kvintakordů

